

Шифр: С-37

Всероссийская олимпиада школьников
Региональный этап

по биологии

2018/2019

Ленинградская область

Район Тихвинский

Школа МОУ "СОЛНЦЕ"

Класс 11 "А"

ФИО СКОБЕЛЕВА АНГЕЛИНА

ЕВГЕНЬЕВНА

Фамилия _____
 Имя _____
 Район _____
 Класс _____
 Шифр _____

Шифр С-37

МАТРИЦА ОТВЕТОВ
 на задания теоретического тура регионального этапа
XXXV Всероссийской олимпиады школьников по биологии. 2018-19 уч. год
10 - 11 классы [маx. 145 баллов] **ВАРИАНТ 1**

Внимание! Образец заполнения: правильный ответ - , отмена ответа -

Задание 1. маx. 40 баллов

№	а	б	в	г	№	а	б	в	г	№	а	б	в	г	№	а	б	в	г	№	а	б	в	г
1					9					17					25					33				
2					10					18					26					34				
3					11					19					27					35				
4					12					20					28					36				
5					13					21					29					37				
6					14					22					30					38				
7					15					23					31					39				
8					16					24					32					40				

Задание 2. маx. 75 баллов

№	?	а	б	в	г	д	№	?	а	б	в	г	д	№	?	а	б	в	г	д	№	?	а	б	в	г	д	№	?	а	б	в	г	д
1	в						7	в						13	в					19	в						25	в						
2	в						8	в						14	в					20	в						26	в						
3	в						9	в						15	в					21	в						27	в						
4	в						10	в						16	в					22	в						28	в						
5	в						11	в						17	в					23	в						29	в						
6	в						12	в						18	в					24	в						30	в						

Задание 3. маx. 30 баллов

1. маx. 4 балла

Структ.	1	2	3	4	5	6	7	8
Водоросль	А							
Б								
В								
Г								
Д								

(по 0,5 б.) = 2,0

2. маx. 4 балла

Гриб	1	2	3	4	5	6	7	8
А								
Б								
В								
Г								
Д								

(по 0,5 б.) = 4,0

3. маx. 6 баллов

Рис.	1	2	3	4	5	6	7	8	9	10	11	12
А												
Б												
В												
Г												

(по 0,5 б.) = 4,0

4. маx. 3 балла

Раст-е	1	2	3	4	5	6
А						
Б						
В						
Г						
Д						
Е						

(по 0,5 б.) = 1,5

5. маx. 3,5 балла

Стадия	1	2	3	4	5	6	7
А							
Б							
В							
Г							

(по 0,5 б.) = 2,0

6. маx. 2,5 балла

Силуэт	1	2	3	4	5
А					
Б					
В					
Г					
Д					

(по 0,5 б.) = 0

7. маx. 2,5 балла

Пор-к	1	2	3	4	5
А					
Б					
В					
Г					
Д					

(по 0,5 б.) = 0

8. маx. 2 балла

Гор-ны	1	2	3	4
А				
Б				
В				
Г				

(по 0,5 б.) = 0,5

9. маx. 2,5 балла

Вит-ны	1	2	3	4	5
А					
Б					
В					
Г					
Д					

(по 0,5 б.) = 0,5

Итого: 77,5 78,5

Проверили: _____

Фамилия _____
 Имя _____
 Район _____
 Шифр _____

Шифр C-37
 Рабочее место _____
 Итого: 10,0

Задания практического тура регионального этапа XXXV Всероссийской олимпиады школьников по биологии. 2018-19 уч. год. 11 класс.

ЛАБОРАТОРИЯ БИОХИМИИ

Идентификация углеводов

Ход работы. Целью работы является идентификация глюкозы, сахарозы и крахмала. В штативах на Ваших рабочих местах находятся 3 пробирки (А, В и С), содержащие по 5 мл 5% растворов углеводов, а также 2% раствор сульфата меди, 6% раствор NaOH и раствор Люголя (раствор I₂ в KI). Отберите по 1 мл растворов из пробирок А – С в чистые пробирки, добавьте в каждую по 0,5 мл раствора сульфата меди и по 1 мл раствора щелочи, тщательно перемешайте и нагрейте в течение 3-5 минут на кипящей водяной бане. В одной из пробирок должен выпасть **красный осадок**.

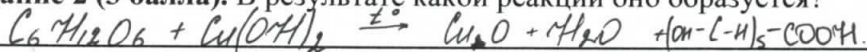
Задание 1 (2 балла). Какое вещество выпадает в осадок?

2,0

Cu₂O

Задание 2 (3 балла). В результате какой реакции оно образуется?

2,0



Задание 3 (1 балл). Какой из углеводов находится в этой пробирке?

1,0

милкоза

Отберите по 1 мл растворов из пробирок А – С в чистые пробирки, добавьте в каждую по 2-3 капли раствора Люголя.

Задание 4 (1 балл). Какой из углеводов реагирует с раствором Люголя? Как при этом изменяется окраска раствора? крахмал, синее окрашивание

1,0

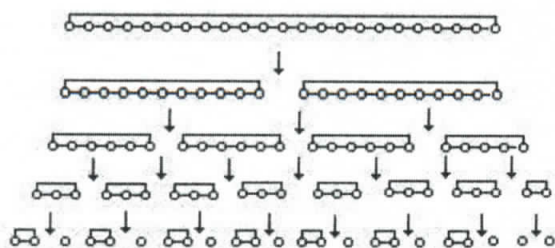
фиолетовое

Задание 5 (3 балла). Заполните Таблицу ниже.

2,0

Пробирка	Реакция с сульфатом меди (+ или -)	Реакция с раствором Люголя (+ или -)	Углевод
А	-	+	<u>крахмал</u>
В	-	+	<u>мальтоза</u>
С	+	-	<u>глюкоза</u>

В результате воздействия альфа-амилазы на крахмал в гидролизате на первых стадиях процесса накапливаются декстрины, которые затем медленно гидролизуются альфа-амилазой до ди- и моносахаридов – глюкозы и мальтозы. Дисахариды этим ферментом не расщепляются.



Крахмал (243 мг) растворили при нагревании в 10 мл воды и подвергли исчерпывающему гидролизу альфа-амилазой. К полученному гидролизату добавили (в избытке) растворы NaOH и

CuSO_4 . Смесь прокипятили, в результате чего образовался красный осадок. Его собрали, высушили и взвесили. Масса полученного осадка составила **144 мг**. Считаем, что реакция прошла полностью.

Задание 6 (1 балл). Какие продукты гидролиза крахмала альфа-амилазой могут принимать участие в реакции с сульфатом меди?

1,0 глюкоза, мальтоза

Для дальнейших расчетов Вам могут понадобиться атомные массы некоторых элементов: **H – 1, C – 12, O – 16, Na – 23, S – 32, K – 39, Cu – 64, I – 127**, а также молекулярные массы некоторых соединений.

Задание 7 (1,5 балла). Рассчитайте молекулярные массы и внесите результаты в Таблицу:

	Молекулярная масса
Глюкоза	180
Мальтоза	342
Остаток глюкозы в составе крахмала	237

Задание 8 (5 баллов). Каково молярное отношение глюкоза:мальтоза в полученном гидролизате? (Без расчетов задание не оценивается!)

Расчет:

0,8
Молярное отношение глюкоза:мальтоза = 1 : _____

Задание 9 (2,5 балла). Каково весовое отношение глюкоза:мальтоза в полученном гидролизате? (Без расчетов задание не оценивается!)

Расчет:

0,8
Весовое отношение глюкоза:мальтоза = 1 : _____

Фамилия _____
Имя _____
Район _____
Шифр _____

Шифр C-37

Рабочее место _____
Итого: 11,5 баллов

Задания практического тура регионального этапа XXXV Всероссийской олимпиады школьников по биологии. 2018-19 уч. год. 11 класс

ФИЗИОЛОГИЯ И МОРФОЛОГИЯ РАСТЕНИЙ

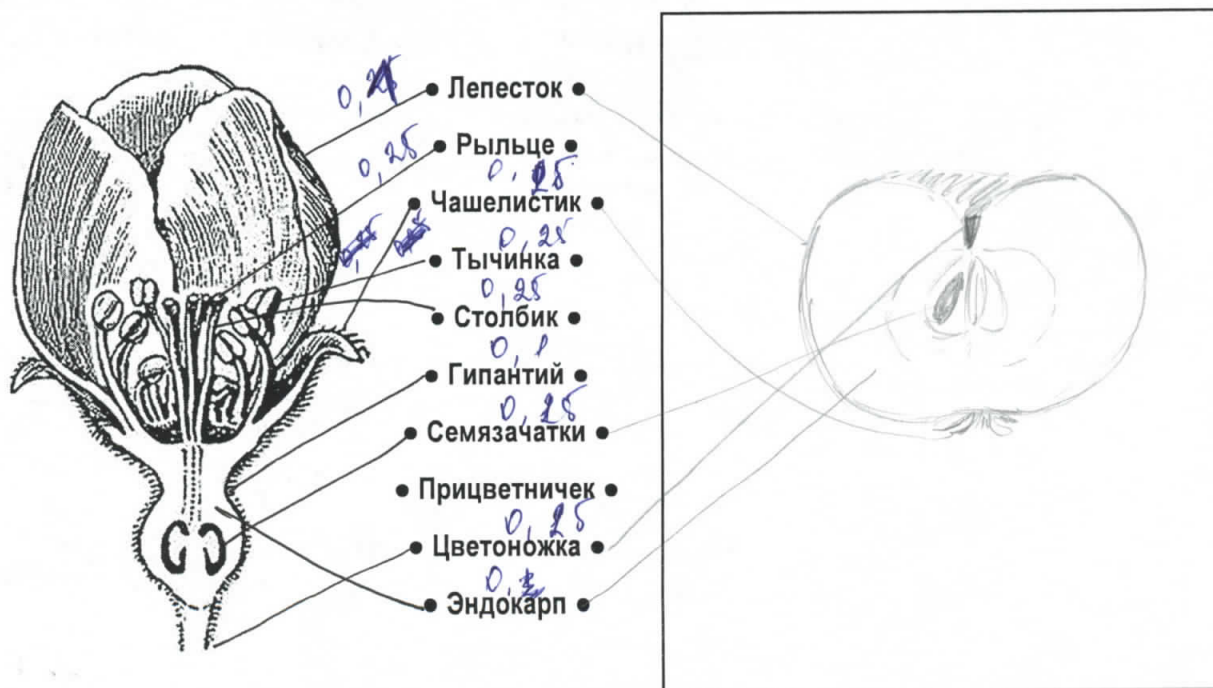
Общая цель: Изучить анатомо-морфологическую структуру и химический состав органов растений: яблони (*Malus domestica*) или айвы (*Cydonia oblonga*), моркови (*Daucus carota* subsp. *sativus*), граната (*Punica granatum*), чая (*Camellia sinensis*); исследовать качественный состав вторичных метаболитов данных растений.

Оборудование и объекты исследования: плод яблока или айвы, штатив с 6 пробирками, в которых находятся вытяжки, полученные из разных органов следующих растений: морковь (*Daucus carota* subsp. *sativus*), гранат (*Punica granatum*), чай (*Camellia sinensis*), пузырьки с пипетками, в которых находятся 1% FeCl₃, 1% раствор желатина, разделочная доска, нож, тёрка, чашки Петри.

Ход работы:

1. При помощи ножа изготовьте продольный срез плода яблони или айвы, выбрав для среза центральную часть органа. Одну половину плода используйте для эксперимента. С помощью тёрки натрите 20–40 г мякоти плода, получив яблочный или айвовый гомогенат. Разделите его на две равные части. Одну из частей поместите в чашку Петри, смешайте с сухим порошком хлорида натрия (около 2–3 г NaCl) и быстро перемешайте (результат зависит от скорости и тщательности выполнения!). Вторую часть гомогената переместите во вторую чашку Петри. Оставьте для инкубации в течение 20–30 минут.

2. Внимательно рассмотрите продольный срез второй половины плода. Зарисуйте продольный срез в поле для рисунка. Сопоставьте структуры цветка и структуры яблока, которые из него развились, соединив указателями термины с Вашим рисунком и предложенным рисунком цветка.



1,7

3. Среди вторичных метаболитов растений важное место занимают фенольные соединения, в состав которых может входить как одно фенольное кольцо, так и несколько, а некоторые являются полимерами (полифенолы). Для обнаружения фенольных соединений можно использовать качественную реакцию с Fe^{3+} , в результате которой образуются темно-синие, темно-красные и бурые соединения или их смесь.

У Вас на столе в штативе находятся 6 пробирок. Каждой паре пробирок присвоен свой номер (1а и 1б, 2а и 2б, 3а и 3б). В каждой двух пробирках с одинаковым номером находится вытяжка из одного и того же объекта.

а) Возьмите пробирку 1а. Рассмотрите ее на просвет. Определите цвет и прозрачность раствора. Результаты внесите в таблицу.

б) В пробирку 1а добавьте $FeCl_3$. Отметьте цвет вытяжки после добавления реагента. Результаты внесите в таблицу.

в) Для обнаружения полифенолов с большим количеством звеньев в цепи добавьте в пробирку 1б желатин. Пронаблюдайте за изменениями. Результаты внесите в таблицу.

г) Повторите пункты а-в с остальными пробирками.

БУДЬТЕ ВНИМАТЕЛЬНЫ! Если Вы ошибетесь, новые пробирки Вам не выдадут.

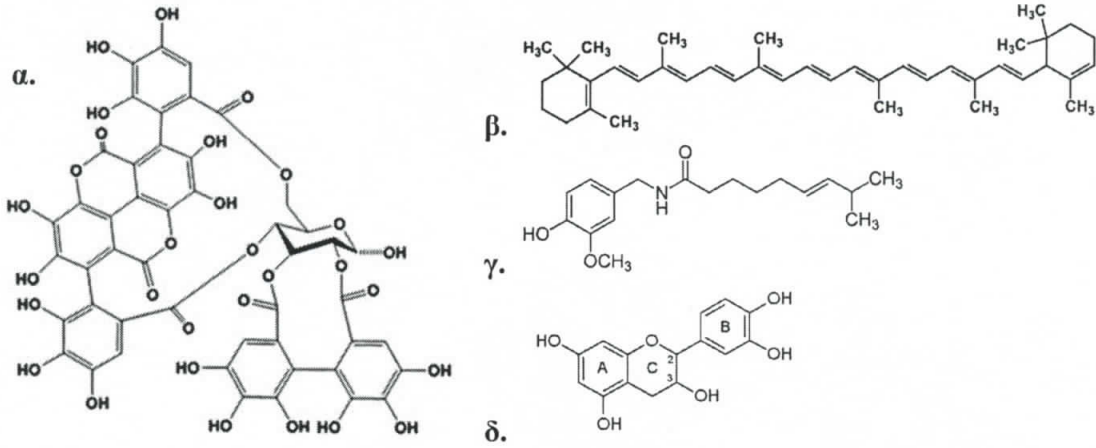
Перечень семейств: Зонтичные (Сельдерейные); Сложноцветные (Астровые), Чайные (Камелиевые), Орхидные (Ятрышниковые), Дербенниковые, Розоцветные (Розовые).

Перечень формул и названий веществ – см. следующую страницу.

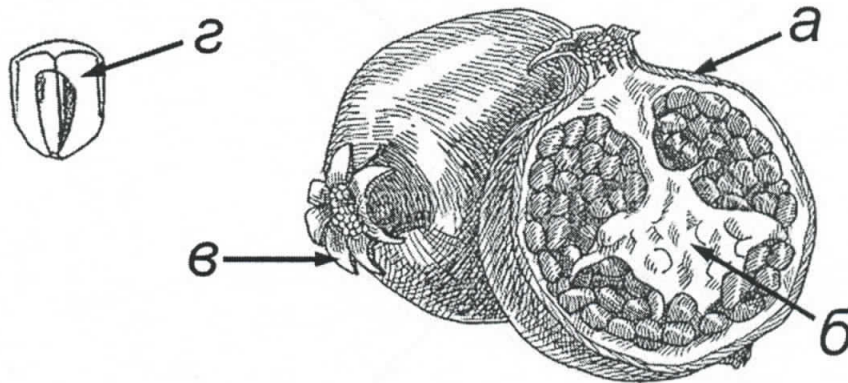
Объект	Гранат <i>Punica granatum</i>	Чай <i>Camellia sinensis</i>	Морковь <i>Daucus carota</i>
Семейство	Дербенниковые	Чайные	Зонтичные
Цвет исходной вытяжки	красно-желт	светло-желт	оранжевая
Прозрачность исходной вытяжки	прозрачная	прозрачная	непрозрачная
Цвет вытяжки после добавления $FeCl_3$ (пробы с буквой а)	бурой (черной)	бурой (черной)	не изменился
Изменения после добавления желатина (пробы с буквой б)	образовался осадок	появился осадок	стал светло-оранжевым
Наличие фенольных соединений (поставьте «+» или «-»)	+	+	-
Наличие полифенольных соединений (поставьте «+» или «-»)	+	+	-
Шифр названия фенольного соединения. Если реакция отрицательна, поставьте «-».	дубильное в-ва	каффеин	β-каротин
Шифр формулы соединения	α	δ	β

Список соединений: а) катехин, б) дубильные вещества, в) β-каротин

Формулы соединений:



4. Ниже представлен плод граната в разрезе. Какая из структур содержит максимальное количество лимонной кислоты? Поле для ответа: а. Обведите в кружок название этой структуры: i) экзокарп; ii) эндокарп; iii) чашелистик; iv) семенная кожура; v) септа (перегородка плода); vi) чашелистик, остающийся при плодах; vii) мезокарп; viii) плодоножка.



5. Отметьте изменение цвета гомогенатов плода яблони или айвы после 20–30-минутной инкубации в таблице.

	Без добавления NaCl	При добавлении NaCl
Цвет гомогената	стал темным	не изменился

Изменение окраски гомогената без добавления NaCl происходит в следствие действия (обведите в кружок правильный ответ): а) рибулозобисфосфаткарбоксилазы/оксигеназы; б) полифенолоксидазы; в) каталазы; г) аскорбатпероксидазы; д) неферментативного окисления кислородом воздуха ионов Fe²⁺ до Fe³⁺.

Объясните действие NaCl в данном эксперименте:

Шифр

C-37

Итого:

3,3

ЛИСТ ОТВЕТОВ

Задание 1. Подпишите гематопозитические органы А-В на разных стадиях развития человека, а также гены, экспрессия которых соответствует кривым 1-5. Некоторые кривые соответствуют двум генам одновременно (4 балла, по 0,5 за каждую правильную подпись).

	А		Б		В	
Орган	<u>селезёнка</u>		<u>печень</u>		<u>КРАСНОТИ И КОСТНОГО МОЗГА</u>	
Кривая	1	2	3	4	5	
Гены	<u>Г_{Hbε}</u>	<u>Г_{HbF}</u>	<u>Г_{HbA₂}</u>	<u>Г_{HbA}</u>	<u>Г_{HbF}</u>	

С какой физиологической адаптацией связано различие гемоглобинов между матерью и плодом? _____

(1 балл)

Задание 2. Укажите число попарно различающихся нуклеотидов между последовательностями на Рис. 2. (3 балла, по 0,5 за каждую правильно заполненную ячейку, не заполняйте залитые серым ячейки)

	<u>HBA1</u>	<u>HBB</u>	<u>HBG1</u>
<u>HBA1</u>			
<u>HBB</u>	<u>6</u>		
<u>HBG1</u>	<u>7</u>	<u>6</u>	
<u>HbZ</u>	<u>6</u>	<u>7</u>	<u>9</u>

Какое из двух деревьев, I или II, лучше соответствует найденным различиям между последовательностями и почему? I, Гены Г_{HbA1} и Г_{HbA2} и

мног Г_{Hbβ1}, Г_{Hbβ2} попарно имеют одинаковую (1 балл)

Число серых прямоугольников на Рис.2 24 (1 балл).

Число уникальных мутаций для выбранного вами дерева 0,8 (1 балл)

Сколько деревьев возможно для 8 генов? 3 (1 балл)

Задание 3. Седьмая аминокислота в нормальной β-цепи гемоглобина – валлин (0,5 балла), в серповидноклеточной – валлин (0,5 балла)

Какие другие аминокислоты в этом положении встречаются у других нормальных цепей гемоглобина? АТВ, САТ, АСТ (1 балл)

Какие другие аминокислоты можно получить в 7 положении с помощью замены одного нуклеотида в кодона GAG на какой-то другой (укажите замены)? _____

САГ - шистонин ; САС - аспарагиновая к - Гл (3 балла)

Почему метионин, кодируемый старт-кодоном как правило не учитывается в нумерации аминокислот последовательности гемоглобина? _____

(1 балл)

Частота аллели серповидноклеточности 8 (1 балл).

Доля больных серповидноклеточной анемией 50% (1 балл)

внимание, что для генов *HBA* и *HBG* прямоугольники включают нуклеотиды двух строк, потому что эти парные гены дублировались позднее других, и сохраняют одинаковые мутации, полученные предковым геном. Аналогично, для некоторых мутаций некоторые прямоугольники можно объединить для разных строк, потому что на основе топологии дерева эти прямоугольники соотносятся с одной предковой мутацией, унаследованной целой веткой из нескольких генов. Вычтите из общей суммы прямоугольников те, что исчезают после такого объединения и рассчитайте количество уникальных мутационных событий.

Рассчитайте, сколько всего деревьев, подобных двум приведенным на рисунке 3, можно теоретически предложить для 8 генов гемоглобинов, если число всех возможных деревьев для N генов равно произведению всех нечетных чисел от 1 до $2N-3$.

Наследственное заболевание серповидноклеточная анемия вызывается однонуклеотидной заменой А на Т в седьмом кодоне гена *HBB* (GAG → GTG), что приводит к аминокислотной замене в β-цепи гемоглобина. Рассмотрите таблицу генетического кода на рисунке 4, и ответьте, какая аминокислота находится в 7 позиции в нормальной и серповидноклеточной β-цепи? Какие другие аминокислоты в этом положении встречаются у других нормальных цепей гемоглобина? Какие другие аминокислоты можно получить в 7 положении с помощью замены одного нуклеотида в кодоне GAG на какой-то другой (любой)? Почему метионин, кодируемый старт-кодоном, как правило, не учитывается в нумерации аминокислот последовательности гемоглобина?

первый нуклеотид	Второй нуклеотид				третий нуклеотид
	(T)	(C)	(A)	(G)	
(T)	F Фенилаланин (Phe)	S Серин (Ser)	Y Тирозин (Tyr)	C Цистеин (Cys)	T
	F Фенилаланин (Phe)	S Серин (Ser)	Y Тирозин (Tyr)	C Цистеин (Cys)	C
	L Лейцин (Leu)	S Серин (Ser)	стоп-кодоны	стоп-кодон	A
	L Лейцин (Leu)	S Серин (Ser)		W Триптофан (Trp)	G
(C)	L Лейцин (Leu)	P Пролин (Pro)	H Гистидин (His)	R Аргинин (Arg)	T
	L Лейцин (Leu)	P Пролин (Pro)	H Гистидин (His)	R Аргинин (Arg)	C
	L Лейцин (Leu)	P Пролин (Pro)	Q Глутамин (Gln)	R Аргинин (Arg)	A
	L Лейцин (Leu)	P Пролин (Pro)	Q Глутамин (Gln)	R Аргинин (Arg)	G
(A)	I Изолейцин (Ile)	T Треонин (Thr)	N Аспарагин (Asn)	S Серин (Ser)	T
	I Изолейцин (Ile)	T Треонин (Thr)	N Аспарагин (Asn)	S Серин (Ser)	C
	I Изолейцин (Ile)	T Треонин (Thr)	K Лизин (Lys)	R Аргинин (Arg)	A
	M Метионин (Met)	T Треонин (Thr)	K Лизин (Lys)	R Аргинин (Arg)	G
(G)	V Валин (Val)	A Аланин (Ala)	D Аспарагиновая кислота (Asp)	G Глицин (Gly)	T
	V Валин (Val)	A Аланин (Ala)	D Аспарагиновая кислота (Asp)	G Глицин (Gly)	C
	V Валин (Val)	A Аланин (Ala)	E Глутаминовая кислота (Glu)	G Глицин (Gly)	A
	V Валин (Val)	A Аланин (Ala)	E Глутаминовая кислота (Glu)	G Глицин (Gly)	G

Рисунок 4. Таблица генетического кода

В одной центральноафриканской популяции мутация серповидноклеточности присутствует у 12% взрослого населения. Такая высокая частота объясняется в два раза меньшей частотой заболеваний малярией у гетерозигот по серповидноклеточности, однако в гомозиготе эта мутация приводит к смерти до вступления в репродуктивный возраст. Рассчитайте в этой популяции частоту аллели серповидноклеточности и долю новорожденных, страдающих серповидноклеточной анемией, свой расчет поясните.